


## Ausbildung zur Pflegeassistenz

Beispielaufgaben:  
Standardisiertes Auswahlverfahren an der  
ISL – Akademie-NÖ



## Das Auswahlverfahren für die Aufnahme an der ISL-Akademie NÖ beinhaltet Aufgaben zu:

- Mathematischen Textaufgaben
- Grundrechnungsarten
- Zahlenreihen
- Matrizen
- Zahlen vergleichen
- Formen kombinieren
- Textverständnis
- Merkfähigkeit
- Analogien
- Sozialer Intelligenztest

# Mathematische Textaufgaben

- Es kommen Addition; Subtraktion, Multiplikation und Division vor.
- Der Test besteht aus 22 Aufgaben.
- Die korrekte Lösung kann sich nur aus ganzen Zahlen zusammensetzen, keine Kommazahlen!
- Sie haben 8 Minuten Zeit, den Test durchzuführen.
- Nach Ablauf der 8 Minuten wird der Test automatisch beendet.

# Mathematische Textaufgaben

- Eine Hausfrau hat 1,70 kg Kaffee.  
Wieviel bleibt ihr, wenn sie davon 90 dag verbraucht?
- 6 Zwiebel kosten 20 Cent.  
Wieviel kosten 24 Zwiebel?
- Ein Kaufmann erhält vom Großhändler Zitronen zum Preis von 5 € für 100 Stück und verkauft sie zu einem Stückpreis von 10 Cent.  
Wieviel Zitronen muss er kaufen, um einen Gewinn von 5 € zu erzielen?

# Grundrechnungsarten

- Bei diesem Test geht es darum, dass Sie grundlegende Rechenarten durch Kopfrechnen lösen.
- Der Test besteht aus insgesamt 34 Rechenaufgaben.
- Die korrekte Lösung kann sich nur aus ganzen Zahlen (keine Kommazahlen!) zusammensetzen.
- Es dürfen schriftliche Notizen zum Rechnen gemacht werden.
- Sie haben 6 Minuten und 30 Sekunden Zeit, den Test durchzuführen.
- Nach Ablauf der 6 Minuten und 30 Sekunden wird der Test automatisch beendet.

# Grundrechnungsarten

➤  $641 + 2847 + 328 = ?$

➤  $84302 - 3098 = ?$

➤  $498 \times 4 = ?$

➤  $59540 : 5 = ?$

➤  $42973 + 46565 + 98120 = ?$

# Zahlenreihen

- Jede der folgenden Aufgaben besteht aus einer Zahlenreihe, die nach einer oder mehreren rechnerischen Regeln aufgebaut ist.
- Die Aufgabenstellung ist es, diese Regel(n) zu erkennen und so anzuwenden, dass das Fragezeichen am Ende jeder Zahlenreihe durch die korrekte Zahl zur Vervollständigung der Zahlenreihe ersetzt wird.
- Der Test besteht aus insgesamt 20 Aufgaben.
- Sie haben 9 Minuten Zeit, den Test durchzuführen.

# Zahlenreihen

- 12 8 11 7 10 6 9 ?
- 160 40 80 20 40 10 20 ?
- 5 15 14 7 21 20 10 ?
- 8 9 18 6 2 7 42 ?
- 6 18 24 8 2 6 12 ?

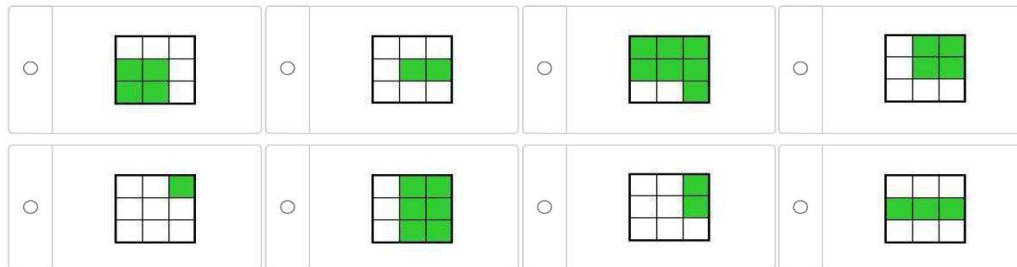
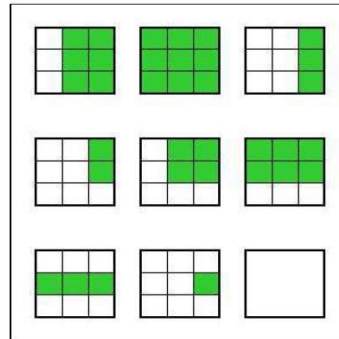


# Matrizen

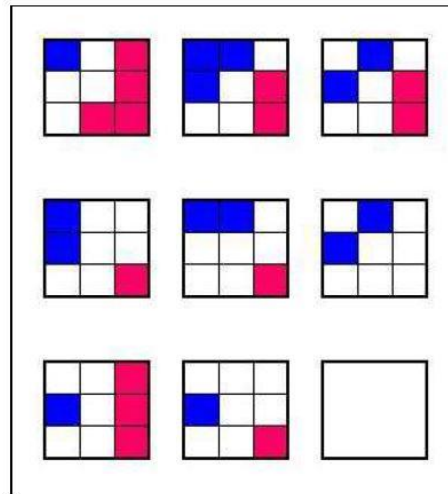
- Bei den folgenden Aufgaben wird jeweils eine 3x3 Matrix vorgegeben, die nach einer oder mehreren logischen Regeln aufgebaut ist.
- In dieser Matrix sind 8 von 9 Kästchen mit Matrizen (=Symbole) belegt, wobei das letzte Kästchen leer steht.
- Ihre Aufgabe ist es nun, das leere Kästchen durch eine der 8 Lösungsmöglichkeiten (Matrizen) zu ersetzen.
- Die Logik der Aufgaben kann zeilenweise, spaltenweise, diagonal oder gar in Kombination verlaufen.
- Der Test besteht aus insgesamt 20 Aufgaben.
- Sie haben 12 Minuten Zeit, den Test durchzuführen.

# Matrizen

- Welche Matrize (=Symbol) ergänzt die Matrix?



Welche Matrize (=Symbol) ergänzt die Matrix?



- |                       |  |                       |  |                       |  |                       |  |
|-----------------------|--|-----------------------|--|-----------------------|--|-----------------------|--|
| <input type="radio"/> |  | <input type="radio"/> |  | <input type="radio"/> |  | <input type="radio"/> |  |
| <input type="radio"/> |  | <input type="radio"/> |  | <input type="radio"/> |  | <input type="radio"/> |  |

# Zahlen vergleichen

- Bei den folgenden Aufgaben werden Sie sehen, dass immer zwei Zahlen nebeneinander geschrieben und mit einem Gedankenstrich in der Mitte verbunden sind. Die rechte Zahl soll dieselbe sein wie die Linke. Ihre Aufgabe besteht nun darin, dies zu überprüfen.
- Wenn die zweite Zahl genau dieselbe ist wie die Erste, dann soll das Optionsfeld bei gleich markiert werden.
- Lautet die zweite Zahl anders, dann soll das Optionsfeld bei ungleich markiert werden.
- Der Test besteht aus insgesamt 99 Aufgaben.
- Sie haben 4 Minuten Zeit, den Test durchzuführen.

# Zahlen vergleichen

➤ 4498 – 4498

gleich

ungleich

➤ 28713387 - 2871387

gleich

ungleich

➤ 440156729296 – 440156729296

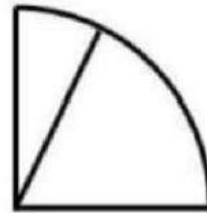
gleich

ungleich

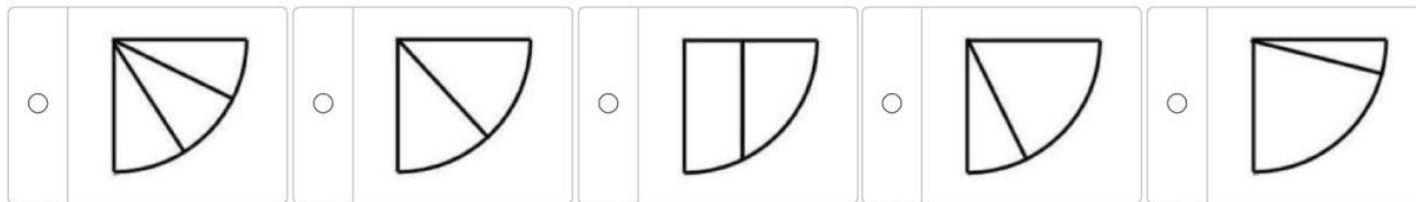
## Formen kombinieren

- Bei den folgenden Aufgaben sehen Sie eine obere Figur, die aus mehreren Bausteinen zusammengesetzt ist.
- Ihre Aufgabe besteht darin, aus den unteren 5 Figuren jene zu finden, die aus den gleichen Bausteinen wie die obere Figur zusammengesetzt ist.
- Der Test besteht aus insgesamt 22 Aufgaben.
- Sie haben 4 Minuten Zeit, den Test durchzuführen.

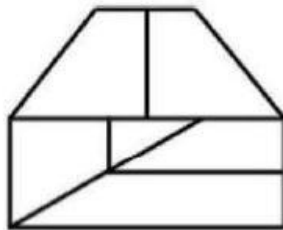
# Formen kombinieren



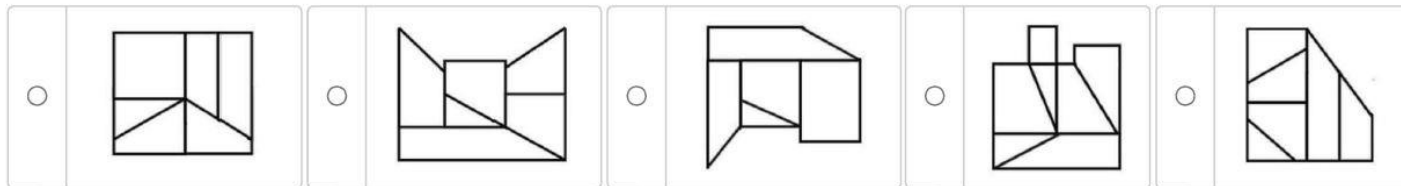
- Welche der fünf unten angegebenen Figuren setzt sich aus den gleichen Bausteinen zusammen wie die obere Figur?



## Formen kombinieren




- Welche der fünf unten angegebenen Figuren setzt sich aus den gleichen Bausteinen zusammen wie die obere Figur?






# Textverständnis

- Bei dem Test "Textverständnis" sollen Sie 4 Texte aufmerksam durchlesen und anschließend jeweils 4 Fragen zu diesen Geschichten beantworten.
- Der Test besteht aus insgesamt 4 Texte mit je 4 dazugehörigen Fragen.
- Zu jeder Frage werden Ihnen 5 Antwortmöglichkeiten vorgegeben, von denen nur eine korrekt ist.
- Es besteht ein Zeitlimit von 5 Minuten für das Durchlesen jedes einzelnen Textes und die Beantwortung der Fragen.
- Wenn Sie während der Bearbeitung eines Textes auf den Weiter-Button  klicken, ist es nicht mehr möglich, die Informationen nochmals abzurufen.
- An dieser Stelle haben wir kein Beispiel. Wir bitten um Verständnis.

# Merkfähigkeit

- Bei dem Test "Merkfähigkeit" sollen Sie 3 Geschichten aufmerksam durchlesen und anschließend jeweils 4 Fragen zu diesen Geschichten beantworten.
- Bevor die eigentlichen Testaufgaben beginnen, wird Ihnen eine Beispielaufgabe, also eine Geschichte und eine dazugehörige Frage, vorgegeben.
- Bevor die eigentlichen Testaufgaben beginnen, wird Ihnen eine Beispielaufgabe, also eine Geschichte und eine dazugehörige Frage, vorgegeben.
- Es besteht ein Zeitlimit von 3 Minuten für das Durchlesen jeder einzelnen Geschichte.
- Wenn Sie während der Phase des Einprägens auf den Weiter-Button  klicken, ist es nicht mehr möglich, die Informationen nochmals abzurufen.
- An dieser Stelle haben wir kein Beispiel. Wir bitten um Verständnis.

# Analogien

- Auf der linken Seite eines Gleichheitszeichens sind 2 Wörter vorgegeben, die in einer bestimmten Beziehung zueinander stehen, auf der rechten Seite steht ein Wort. Von den vorgegebenen Wahlwörtern ist jenes auszuwählen, das auf der rechten Seite des Gleichheitszeichens eine analoge bzw. gleiche Beziehung herstellt.
- Der Test besteht aus insgesamt 21 Aufgaben.
- Sie haben 5 Minuten Zeit, den Test durchzuführen.

# Analogien

➤ Fleiß : Faulheit = Tapferkeit : ?

- bedauern
- Mut
- Treue
- Kühnheit
- Feigheit

➤ Zitrone : Pfeffer = sauer : ?

- prickelnd
- bitter
- scharf
- aromatisch
- würzig

# Sozialer Intelligenztest

- Bei dem sozialen Intelligenztest handelt es um Fragen zu verschiedenen Lebenssituationen.
- Der Test besteht aus insgesamt 12 Fragen.
- Zu jeder Frage werden Ihnen 3 Aussagen vorgegeben, wobei Sie entscheiden sollen, welcher Aussage Sie am meisten zustimmen.
- Für diesen Test besteht kein Zeitlimit. Versuchen Sie trotzdem die Fragen möglichst zügig zu beantworten.
- An dieser Stelle haben wir kein Beispiel. Wir bitten um Verständnis.

**.ISL**

**Akademie NÖ**

Ausbildung in Pflege und Betreuung

**Viel Erfolg**



**[www.isl-akademie-noe.at](http://www.isl-akademie-noe.at)**